


2016年江苏省公务员考试行测真 题（C类）



扫码下载永岸公考app
发现更多历年真题



最新版永岸公考app->我的
扫码工具扫描录入答案查看解析

常识判断

请根据题目要求，在每个选项中选出一个最恰当的答案。

1. 党的十八届五中全会通过了《中共中央关于制定国民经济和社会发展第十三个五年规划的建议》，下列对于该建议的理解正确的是：
 - A. 《“十三五”规划建议》是针对“两个一百年”奋斗目标收官阶段提出的战略蓝图
 - B. 《“十三五”规划建议》充分论述了继续坚持我国改革开放以来发展方式的必要性
 - C. 《“十三五”规划建议》针对社会主要矛盾的新变化提出了经济社会发展的新方针
 - D. 《“十三五”规划建议》提出并阐释了我国经济社会发展的“五大发展理念”
2. 习近平总书记在中央政治局第二十次集体学习时强调，要增强问题意识，坚持问题导向。这体现的哲学原理是：
 - A. 矛盾具有普遍性和客观性，矛盾是事物发展的源泉和动力
 - B. 联系具有普遍性和多样性，任何事物都处在普遍联系之中
 - C. 真理具有绝对性和相对性，绝对真理包含在相对真理之中
 - D. 认识具有反复性和无限性，认识是一个辩证运动的过程
3. 下列诗句与其描写的传统节日对应不正确的是：
 - A. 总把新桃换旧符——清明节
 - B. 遍插茱萸少一人——重阳节
 - C. 蓦然回首，那人却在灯火阑珊处——元宵节
 - D. 两情若是久长时，又岂在朝朝暮暮——七夕节
4. 供给侧结构性改革强调从供给、生产端入手，不断解放生产力，提升效率，促进经济发展。下列属于供给侧结构性改革举措的是：
 - A. 物价部门开展市场价格检查
 - B. 商业银行上浮企业贷款利率
 - C. 发改委取消部分行政审批事项
 - D. 工商部门限制明星代言广告
5. 下列对日常生活现象的解释正确的是：
 - A. 自行车在夏天暴晒后容易爆胎，是因为橡胶在高温下变软了
 - B. 夏天从冰箱里取出的冷饮瓶表面有小水滴，是因为冰箱湿度大于室内
 - C. 赤脚站在瓷砖上比站在棉被上凉爽，是因为瓷砖的温度比棉被的温度低
 - D. 热水瓶的内胆镀银是为了减少热辐射
6. 高铁列车的车窗和车门在运行过程中必须完全密闭。对此，下列解释最准确的是：
 - A. 减少高铁列车运行的能源消耗
 - B. 保持高铁列车车厢内部的安静
 - C. 避免车速过快形成空气压强差
 - D. 确保高铁列车车厢内部的整洁
7. 2016年一号文件聚焦加快农业现代化，对此，下列理解正确的是：

- A. 一号文件将促进农业的规模经营，提升农业在产业结构中的比重
- B. 一号文件将激发农业的科技创新，以服务业带动农业现代化的发展
- C. 一号文件将推动农村的产业融合，促进农民收入的持续较快增长
- D. 一号文件将带动农村基础设施建设，依靠社会资本加快新农村建设
8. 鲁迅先生曾说，贾府里的焦大是不会爱上林妹妹的，这句话蕴含的哲学意义是：
- A. 社会存在决定社会意识
- B. 经济基础决定上层建筑
- C. 社会意识具有主观能动性
- D. 社会意识对社会存在具有反作用
9. 某村是贫困村，县扶贫工作队调研后认为该村有种植天麻的先天优势，遂决定将推动天麻种植作为扶贫工作的重要内容。县扶贫工作队采取的下列措施中不正确的是：
- A. 加强宣传引导，调动村民种植天麻的积极性
- B. 确定种植任务，规定每户村民的种植面积
- C. 统筹扶贫资金，做好良种引进和技术服务
- D. 吸引社会资本，推进天麻产品的深度加工
10. 为了适应全球科技创新发展的趋势，我国制定了《中国制造2025》的行动纲领，下列对《中国制造2025》理解错误的是：
- A. 全球制造业格局面临重大调整是制定《中国制造2025》的重要背景
- B. 《中国制造2025》的覆盖范围包括国民经济门类中的所有产业
- C. 制定《中国制造2025》是为了通过“三步走”实现制造强国的战略目标
- D. 《中国制造2025》与美国工业物联网，德国的工业4.0都强调生产效率
11. 在需求和供给自由作用的市场条件下，能够有效缓解天然气供给短缺的方法是：
- A. 提高天然气的市场销售价格
- B. 劝告人们尽可能地节约用气
- C. 限制居民家庭每月用气量
- D. 在特定的时段实施天然气供给
12. 中国军民在抗日战争中取得过一系列重大胜利。下列不属于在抗日战争时期取得的重大胜利是：
- A. 平型关大捷
- B. 昆仑关大捷
- C. 镇南关大捷
- D. 台儿庄大捷
13. 1956年我国各地按照“双百方针”积极整理民族传统文化，通过收集、整理、编演拯救了一批剧种，其中被周恩来总理评价为“一出戏救活了一个剧种”的是：
- A. 昆曲《十五贯》
- B. 黄梅戏《天仙配》

- C. 豫剧《穆桂英挂帅》
D. 越剧《柳毅传书》
14. 国际性河流是指流经两个以上国家和地区的河流，往往成为国际贸易、区域合作的重要通道。下列发源或流经我国的国际性河流中，流经国家最多的是：
- A. 黑龙江
B. 澜沧江
C. 图们江
D. 雅鲁藏布江
15. 下列关于我国少数民族的名称、特色饮食与代表性文化对应错误的是：
- A. 傣族—馕—孔雀舞
B. 蒙古族—手抓羊肉—蒙古长调
C. 朝鲜族—泡菜—《阿里郎》民谣
D. 藏族—酥油茶—《格萨尔王》长诗
16. 下列对司法俗语说明错误的是：
- A. 案结事了——司法解决的根本性
B. 有告必理——司法解决的普遍性
C. 不告不理——司法活动的被动性
D. 一事不再理——司法程序的终结性
17. 某村是所在乡的人口第一大村，村民委员会经民主选举成立后通过了一系列事项，下列事项符合法律规定的是：
- A. 村委会采取主任负责制
B. 村里财务每两年公布一次
C. 村委会设置多个下属委员会
D. 村委会向村党支部负责并报告工作
18. 张某家的梧桐树枝生长到李某家的院中，落下的树叶和树絮给李某带来一定的烦恼。双方为此发生争执，本案涉及的法律关系是：
- A. 人身关系
B. 债权债务关系
C. 相邻关系
D. 宅基地使用权关系
19. 下列有关“三更半夜”中“三更”的说法，正确的是：
- A. 每更约等于现在的一个小时
B. 古人将夜晚划分为12更
C. “三更”大致是指晚上九时
D. “三更”也可以叫作“三鼓”
20. 胡某承包的鱼塘被洪水冲垮，饲养的鱼游入杨某的蟹塘。胡某要求杨某返还游入蟹塘中的鱼，杨某认为鱼是自己游入的，没有义务返还。双方为此发生纠纷。经村干部调解，杨某同意补偿胡某3000元。后杨某反悔，胡某诉至法院。下列关于本

案的说法，正确的是：

- A. 杨某蟹塘里游入胡某饲养的鱼，属于善意取得
- B. 胡某诉杨某的理由可以是杨某获得了不当利益
- C. 杨某对村干部的调解反悔，违反法律的规定
- D. 双方在本案中均无过错，法院应依公平原则来处理

言语理解与表达

请根据题目要求，在每个选项中选出一个最恰当的答案。

①研究农村，首要的问题是理解农村社会和农民阶层的生活状态和行为特征。在这方面，农村经济研究者必须_____和参考社会学和文化人类学的研究方法以及研究成果。

②比如，在研究中国农村金融的时候，如果不能深切了解中国农民和农村的社会生活及其结构特征，就很难了解为什么农民会选择这种金融组织形式和融资方式，而拒斥另一种金融组织形式和融资方式，就很难理解为什么有些金融机构在农村领域获得了极大的成功，而有些金融机构却负债累累乃至倒闭。

③社会研究，包括农村研究的基本方式有调查研究、实验研究、实地研究和文献研究等。

④调查研究的基本要素包括抽样、问卷、统计分析、相关关系等。实验研究的构成要素包括实验组、控制组、实验刺激、因果关系等。实地研究包括参与观察、研究者的角色、投入理解、扎根理论等。而文献研究则包括内容分析、现有统计分析等。

⑤这四种方法反映了不同的方法论倾向：以实验研究、调查研究和文献研究为代表的定量研究方式，比较集中地体现了实证主义方法论的倾向；而以实地研究为代表的定性研究方法，则集中体现了人文主义方法论的倾向。

⑥不同研究方式也分别被用于不同的研究目的：调查研究最常被用于描述一个大的总体的状况，以及探讨不同变量之间的相关关系；实验研究则主要被用于探索和证明两个变量之间的因果关系；实地研究则更多是在深入理解社会现实，以及在提炼和建构理论方面发挥作用；而文献研究常被用于帮助研究者去探讨那些任何其他方式在时间和空间上无法达到的社会现象和问题。

⑦可以说，不同的方法有不同的用途，应该综合运用各种方法，而不要局限于某一种方法。

⑧应该指出的是，社会研究的方法体系是一个有机的整体，方法论是居于统帅地位的指导社会科学研究的一般思想方法和哲学基础。

⑨具有实证主义方法论的社会研究者，通常采用调查研究、实验研究以及定量的文献研究的方式，以凸现研究的规范性、精确性和客观性。从建立研究假设、数据资料收集、定量分析方法的运用，直到依据结果的解释和假设的检验，其中每一个步骤都尽可能严格按照自然科学研究的方式进行。而具有人文主义方法论的学者，则更经常地采用实地研究的方式，以及定性的研究方式，以凸现研究过程的特殊性、深入性和主观性，在研究思路更多地依赖研究者的主观体悟，方法上更多地依赖研究者的参与和对情景的分析。

21. 填入文中划横线处最恰当的一项是：

- A. 探寻
- B. 凭借
- C. 追随
- D. 借助

22. 关于“有些金融机构在农村领域获得了极大的成功”的原因，与文意不符的一项是：

- A. 采用了适合当地农村的金融组织形式
B. 全面满足了农民急需的农业生产融资
C. 理解当地农村社会的结构方式
D. 懂得农民的日常生活社会生活方式
23. 作者认为“实地研究”与其他几种研究方法的主要不同点在于：
A. 更多体现了人文主义的研究倾向
B. 通过研究成果建立新的理论架构
C. 研究过程强调研究者的亲身参与
D. 更多更深入地理解当前社会现实
24. 根据文意，下列对“实证主义”研究方法概括不准确的是：
A. 强调研究的规范性、精确性和客观性
B. 尽可能按照自然科学研究的方式进行
C. 关注整个研究过程的特殊性及其深入性
D. 通常采用调查研究、实验研究的方法
25. 如果把这篇文章分为三个层次，最恰当的一项是：
A. ①②③/④⑤⑥⑦/⑧⑨
B. ①②/③④⑤⑥⑦/⑧⑨
C. ①②/③④⑤⑥/⑦⑧⑨
D. ①②③/④⑤⑥/⑦⑧⑨
26. 电影是否适合3D制作，主要取决于影片的内容，如果动作的纵深变化较多，视觉要求更高，拍成3D便很好，比如《少年派的奇幻漂流》《阿凡达》等，因为其视觉纵深的变化较多，比较适合3D特效。但一些室内电影，包括很多爱情片、文艺片，还有一些动画片，就没有必要制作成3D版本，而且如果勉强使用3D特效，反而会给观众带来不好的观影感受。
作者通过这段文字意在说明：
A. 3D影片制作成了吸金噱头
B. 3D影片制作可能弊大于利
C. 3D影片制作其实可有可无
D. 3D影片制作应当因片而异
27. 从特定意义上说，决策的过程就是抢抓机遇，将可能性变为现实的过程。机遇从来都是公正的，机遇一旦到来，就看谁能审时度势，及早地发现它，抓住它；能否抓住它，又关键看谁具有立断立行的智慧和勇气。凡是决策，没有不存在风险的，若想等到有百分之百的把握再拍板，恐怕时机早已逝去。
这段文字主要说明：
A. 应该掌握时机果断决策以免错失机遇
B. 决策者的智慧和勇气是决策成败的关键
C. 有了充分的把握再决策已丧失最好的时机
D. 决策者主要考虑如何将可能性变为现实
28. 盯着名利干事，难免_____，欲速则不达；盯着责任干事，“不闻掌声”而_____，才能最终赢得掌声。

依次填入画横线部分最恰当的一项是：

- A. 斤斤计较 心无二用
- B. 急公好义 心怀大局
- C. 患得患失 心胸开阔
- D. 急功近利 心无旁骛

29. 一张照片中的场景是这样的：夜幕降临，各种灯光开始勾勒出城市的轮廓，高低错落的楼宇林立，道路上车流的灯光划出流光溢彩的轨迹。如果时空真的能够穿越，让古人穿越到这里，他们一定不会对眼前的景色陌生，因为古人喜欢将楼阁依水依河而建，喜欢登楼观水，这道路不就是高楼峡谷中蜿蜒流淌的河流吗？

根据文意，这张照片拍摄的角度是：

- A. 仰视
- B. 俯视
- C. 平视
- D. 侧视

30. 网络用语从一开始就不是交际语言。文字和语言的性质是不一样的，语言本质上是用声音符号做物质外壳的，文字则是用来记录有声语言的。世界上大多数语言并没有文字，这些语言也就不会有网络用语。文字有记录，保存语言的功能，并能远距离传送，网络主要利用文字来实现即时的远距离交流，文字有这样的优点，但是它不能取代语言。

根据文意，网络用语之所以不是交际语言，是因为：

- A. 网络用语本质上是用文字符号记载的语言
- B. 网络语言主要用来实现即时的远距离交流
- C. 文字虽能远距离传送但不能取代交际语言
- D. 网络即使再发达也不可能不用交际语言

31. 蓝藻本身没有多少危害，就怕蓝藻上浮形成水华。蓝藻形成水华时，一方面将严重抑制浮游植物利用光合作用产生氧气，另一方面也阻隔空气中的氧进入水体，导致水体中溶解氧严重不足，造成生态失衡。长期以来人们对水资源的不合理开发与利用，导致大量含有氮、磷营养元素的污染物质不断排入海洋、江河、湖泊和水库等水体，造成严重的水体富营养化状态，为蓝藻的爆发提供了得天独厚的条件。

这段话意在强调：

- A. 谨防蓝藻上浮形成水华阻隔氧气进入水体
- B. 蓝藻爆发会影响生态平衡以及水资源开发
- C. 治理水体污染是控制蓝藻爆发的根本措施
- D. 适当引种蓝藻吸收氮、磷元素以优化水环境

32. 每个时代都有自己的流行语，网络热词则是互联网时代最普遍的副产品。与以往不同，网络热词的更替速度令人_____，“来得快，去得更快”成为网络热词的集体_____。

依次填入画横线处最恰当的一项是：

- A. 目不暇接 宿愿
- B. 不堪重负 命运
- C. 顾此失彼 结局
- D. 眼花缭乱 宿命

33. ①回顾人类法律发展史，我们也能看到法律发展过程在很大程度上是法官不断补充完善法律规则，填补法律漏洞的过程。
②即使法律再完备也不能包罗万象，总是会留给法官留下大量的解释空间。
③法律只有借助法官的解释才能实现对社会生活的有效规范。
④法典由法律语言构成，法律语言描述功能和信息载体功能十分有限，无法涵盖与描述全部的社会生活。
⑤有的立法者希望通过立法本身的高度完善去消除法律解释活动的必要性，但事实证明是徒劳的。

将以上5个句子重新排列，语序正确的是：

- A. ②①⑤④③
B. ①⑤④③②
C. ①④⑤③②
D. ②①③④⑤
34. 目前出现的一些智能快递柜，代表着未来中国快递业的发展方向——智能快递，即通过引入信息化，大数据等现代化手段，融合预测等方式，以更加便捷的智能设施（如智能快递柜）和手段来满足高密度、高成本、高人力的现代快递工作，通过建设社区的“智能快递站”为消费者服务。
- 以下与文意不符的是：
- A. 走智能快递之路，符合未来中国快递业的发展方向
B. 建设社区的“智能快递站”能更便捷的为消费者服务
C. 智能快递能有效满足“三高”状态的现代快递工作
D. 智能快递柜的出现预示着快递服务费用更加低廉
35. 膳食指南本身不是科学研究，它是政府组织专家，对过去几年中公开发表的涉及饮食与健康的科学文献进行的汇总与梳理。不同的文献研究的对象、方式和考察的健康指标不同，就可能得出不同的结论。指南的制定是把这些不同的研究进行统一的考察，然后根据证据的强弱做出“推荐”，这些推荐只是根据目前的证据所能作出的合理“判断”，而不是对该问题的“盖棺定论”。
- 下列说法与文段不符的是：
- A. 膳食指南受到当下研究成果的制约
B. 膳食指南根据科学研究的发展往往会产生变动
C. 膳食指南所做的推荐其实不具有参考价值
D. 不同的研究者有时对同一问题得出不同的结论
36. 提升公民科学素质是加快经济方式转变的迫切要求。一个国家的核心竞争力和强大后劲取决于包括科学素质在内的国民素质的不断提升，实施创新驱动发展战略，把经济增长方式转移为推动科技进步和提高劳动者素质上来，需要有数以亿计的高素质劳动者和数以万计的能工巧匠。没有公民科学素质的普遍提高，就难以建立起庞大的高素质劳动大军，难以将科学成果快速转化为现实的经济实力。
- 这段文字主要讨论的是：
- A. 公民科学素质同样是核心竞争力
B. 时代呼唤高素质的劳动大军
C. 经济发展方式转变是当务之急
D. 推动科技成果转化成为经济实力

37. 联产承包责任制解放了农村的经济生产活力，从其产业结构而言，联产承包责任制所释放出的农村经济活力，并不是自产自销，而是被纳入了现代产业体系，农村经济成为现代产业体系的重要一环，专营化、职业化、金融化成为其重要特征，“农民”于农村劳动力而言更多是一种产业身份而非社会身份，村落社会的农民集体逐渐变成了“非农”。

这段文字主要强调的是：

- A. 联产承包责任制改变了农村劳动力的特征
 - B. 联产承包责任制使农业步入了现代产业体系
 - C. 联产承包责任制调整了农村生产关系
 - D. 联产承包责任制创新了农业劳动方式
38. 不是所有的花都适合于肥沃的土壤，沙漠就是仙人掌的乐园。人生的许多成败，不在于环境的优劣，而在于你是否选对自己的位置。

这段话的主要含义是：

- A. 仙人掌最适合在沙漠地区生长
 - B. 每种花都有适合它生长的环境
 - C. 虽身处优越的环境但未必就能成功
 - D. 找准自己位置与获得成功密切相关
39. 在传统单位制社区中，社区居民彼此熟悉，整个社区类似于社会学家所言的“熟人社区”。但伴随改革开放尤其是工业化、城市化的快速推进，社区尤其是商品房社区成为人们日常生活的重要社会空间，其业主多是因产权而成为邻居。与过去的单位制熟人社区相比，陌生人社区在成员构成、空间结构以及社会秩序维系机制等方面呈现出诸多不同。

这段文字接下来最可能讨论的问题是：

- A. 传统单位制社区的新发展
 - B. 陌生人社区的建设治理
 - C. 商品房社区的社会空间拓展
 - D. 熟人社区的改造与优化
40. 除了品种，温度和光照也会影响茶氨酸的分解。在关于茶的各种诗文中，优质的茶总是生长在深山幽谷。除了水源土壤的清洁，更重要的原因在于深山幽谷中光照不足，而在春天茶叶发育期间温度较低，所以茶氨酸的分解以及儿茶素的合成受到抑制。这样制得的春茶茶氨酸含量高而茶多酚含量低，也就更好喝。

根据文意，下列说法不正确的一项是：

- A. 受到较多光照的茶叶会使茶氨酸含量降低
 - B. 一般产自深山幽谷的茶叶比平地上的好喝
 - C. 抑制茶氨酸的分解后制成的茶叶味道不佳
 - D. 秋茶一般不如春茶好喝与茶树光照多有关
41. 俄国著名剧作家果戈理说：“当诗歌和传说都缄默的时候，只有建筑在说话。”建筑是凝固的历史、时代的缩影，一座没有老建筑的城市相当于没有灵魂。如果不对历史文化建筑好好保护，本能“说话”的历史文化建筑也会湮没在历史的尘埃里。只有保护和利用好这些老建筑，才能留住城市的历史和文化。否则，_____。

填入画横线部分最恰当的一项是：

- A. 一切都无所作为
- B. 一切都无从谈起

- C. 一切都无计可施
- D. 一切都无声无息

42. 通俗地说，暗物质就是宇宙中看不见的物质。有迹象表明，宇宙中还存在大量人们看不见的物质，它们不发出可见光或其他电磁波，用天文望远镜观测不到。但它们能产生万有引力，会对可见的物质产生作用。暗物质中的“暗”，不仅在于其“没有正常物质的光谱”，还在于“人类对其的未知”。

这段文字未涉及的是：

- A. 暗物质如何被发现
- B. 暗物质的基本特点
- C. 关于暗物质目前所知甚少
- D. 暗物质大量存在宇宙之中

43. 今日数以亿计的进城务工农民的交往社会化已成一个重要事实。与这一事实相_____的是，中国农业生产正经历了一次深刻的变革，快速推进的城镇化大大降低了农业人口比重，人们的食物消费结构和农业生产结构的转型正在_____新型农业的产生。

填入画横线部分最恰当的一项是：

- A. 符合 激励
- B. 验证 敦促
- C. 印证 鼓励
- D. 契合 促使

44. 在成文法背景下，法官没有主动创造法律的_____，但在出现法律模糊、空白等情形时，法官只能通过解释法律来发展和_____立法。

依次填入画横线部分最恰当的一项是：

- A. 责权 补充
- B. 权利 完成
- C. 权力 完善
- D. 授权 促成

45. 经典的魅力是多方面的，而其中有一点就在于，_____故事淡忘了，仍会有些东西留在你心间。这种留在心间的东西，就是_____的影响，就是熏陶。

依次填入画横线部分最恰当的一项是：

- A. 即使 潜移默化
- B. 假使 悄无声息
- C. 即便 耳濡目染
- D. 假如 润物无声

46. 建设21世纪海上丝绸之路，是为了_____古代海上丝绸之路特有的价值和理念，为其注入新的时代内涵，积极主动地发展与沿线国家的经济伙伴关系，对当前正在进行的各种各样的合作进行整合，使它们相互连接、相互促进，产生整体大于部分之和的_____。

填入画横线部分最恰当的一项是：

- A . 挖掘 效率
- B . 显现 结果
- C . 发掘 效应
- D . 发现 成果

47. 教育机会平等权问题，源自城市化。加强对我国教育机会平等权的保护，_____已不在上不起学的问题，而在于如何配置相对缺乏的教育资源，使其更加_____，从而克服城市化带来的弊病。

依次填入画横线部分最恰当的一项是：

- A . 重点 平均化
- B . 重心 平等化
- C . 本质 均衡化
- D . 关键 均等化

48. 大自然慷慨的_____，使人类得以繁衍生息，创造文明。人类理应顺应自然，但人类的历史，反倒常常是_____与辜负大自然美好情意的历史。

依次填入画横线处最恰当的一项是：

- A . 赐予 轻慢
- B . 分享 挥霍
- C . 奉献 嘲弄
- D . 供给 忽略

49. 信息社会的显著_____是社会从有形的物质创造价值转向无形的信息创造价值，整个社会对于信息资源的依赖性加强，处于社会信息化进程中的个人也_____。

依次填入画横线部分最恰当的一项是：

- A . 特点 亦步亦趋
- B . 特征 无处遁形
- C . 标准 无一例外
- D . 标志 概莫能外

50. 金融实证研究基本上无法通过特定的实验来进行，这就决定了在研究方法上主要依靠现实数据收集和计量分析_____。因此，数据采集及其分析对于金融学研究的重要性_____。

依次填入画横线部分最恰当的一项是：

- A . 方式 毫无疑问
- B . 方法 不证自明
- C . 手段 不言而喻
- D . 做法 人所共知

51. 书法是中国艺术体系中最重要艺术形式之一。它以汉字为_____，通过具有特殊笔墨情韵的汉字形象的_____，表现艺术家的思想情感。

依次填入画横线部分最恰当的一项是：

- A . 代表 创新

- B. 载体 创造
- C. 材料 表现
- D. 工具 再现

52. 由于知识产权的保护客体主要是智力劳动成果，所以知识产权是在保护金融创新方面具有_____的优越性，对金融创新产品的知识产权保护主要包括商标权，著作权，专利权以及商业秘密保护等方式的综合_____。

依次填入画横线部分最恰当的一项是：

- A. 天生 采用
- B. 天然 应用
- C. 无比 运用
- D. 无穷 利用

53. “苟日新，日日新，又日新。”中华传统文化本就是亘古常新的，这是其_____五千年而不曾断裂的秘诀所在。在新的时代背景下，要_____传统文化，就要让传统文化更深入地进入我们的生活，_____为生活的一部分——这是最好的传承之道。

填入画横线部分最恰当的一项是：

- A. 延续 宣扬 转化
- B. 传承 传播 类化
- C. 历经 继承 深化
- D. 绵延 弘扬 内化

54. 今年的竞赛单元依旧气氛激烈，_____。这几年的纪录片有一个明显的变化，就是镜头越来越深入人物的内心，_____被拍摄对象的生活情绪，传达他们的孤独、挣扎和纠结，甚至达到了剧情片的效果，就探索这个时代人们的内心而言，这些纪录片取得的成就，是电影院里放映的商业电影所_____的。

填入画横线部分最恰当的一项是：

- A. 如火如荼 描写 自叹不如
- B. 强手如林 追踪 望尘莫及
- C. 短兵相接 揭露 望而却步
- D. 刀光剑影 刻画 无法比拟

55. 劳动不仅_____着我们的生活，而且_____着我们的灵魂，不仅创造着社会的财富，而且_____着人类的文明。

填入画横线部分最恰当的一项是：

- A. 滋养 铸造 积淀
- B. 滋润 锻造 积攒
- C. 滋养 锻造 积攒
- D. 滋润 铸造 积淀

数量关系

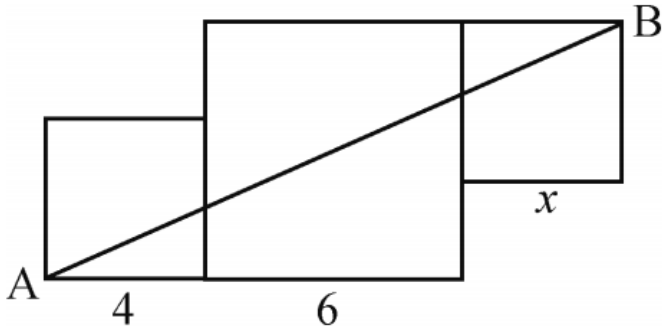
请根据题目要求，在每个选项中选出一个最恰当的答案。

56. 已知A、B两地相距600千米，甲乙两车同时从A、B两地相向而行，3小时相遇。若甲的速度是乙的1.5倍，则甲的速度是：

- A. 60千米/小时

- B . 80千米/小时
- C . 90千米/小时
- D . 120千米/小时

57. 下图是由三个边长分别为4、6、 x 的正方形所组成的图形，直线AB将它分成面积相等的两部分，则 x 的值是：



- A . 3或5
 - B . 2或4
 - C . 1或3
 - D . 1或6
58. 3 , 9 , 17 , 27 , 39 , ()
- A . 48
 - B . 53
 - C . 56
 - D . 59
59. 137 , 140 , 149 , 176 , 257 , ()
- A . 300
 - B . 350
 - C . 400
 - D . 500
60. $\frac{1}{3}$, $\frac{2}{3}$, 2 , 10 , 70 , ()
- A . 770
 - B . 723
 - C . 760
 - D . 1400
61. -12 , -7 , 2 , 19 , 52 , ()
- A . 62
 - B . 77
 - C . 97
 - D . 117
62. $\sqrt{42}$, $3\sqrt{5}$, $4\sqrt{3}$, $3\sqrt{6}$, $6\sqrt{2}$, ()

- A . 12
B . $2\sqrt{35}$
C . $2\sqrt{37}$
D . 144
63. 某班有40名学生，一次数学测验共有两道题，答对第一题的有27人，答对第二题的有23人，两题都答对的有15人，则两题都答错的人数是：
A . 3
B . 5
C . 6
D . 7
64. 某项工程由工作效率相同的甲、乙两工程队承担。若甲、乙两队合做，工期可提前5天；若两队先合做6天，余下的由甲队独做，恰好也能按工期完成。则该工程的工期是：
A . 14天
B . 15天
C . 16天
D . 18天
65. 小王以每股10元的相同价格买入A和B两只股票共1000股。此后A股先跌5%再涨5%，B股票先涨5%再跌5%。若在此期间小王没有再买卖过这两只股票，则现在这1000股股票的市值是：
A . 10250元
B . 9975元
C . 10000元
D . 9750元

判断推理

请根据题目要求，在每个选项中选出一个最恰当的答案。

66. 火车：轨道：行驶
A . 电脑：键盘：上网
B . 相机：镜头：拍照
C . 飞机：机场：飞行
D . 油轮：江海：航行
67. 甲、乙、丙、丁、戊5支足球队进行小组单循环赛。比赛规定，每队胜一场得3分，平一场得1分，负一场得0分；积分前两名出线。比赛结束后发现，没有积分相同的球队，乙队胜了3场，另一场负于甲队。
根据以上信息，可得出以下哪项：
A . 甲队一定出线
B . 乙队一定出线
C . 丙队一定出线
D . 戊队一定出线

73. 平行竞争，指各家厂商提供不同种类的产品以满足顾客同一需求而形成的竞争。

下列属于平行竞争的是：

- A. 冬天还没到，电器商场就摆满了各种取暖用品，空调、油灯、热电扇、电热毯应有尽有，价格有高有低，款式或经典或新潮
- B. 为了扩大市场份额，某公司新近推出了一款平板电脑，硬盘容量有64G、128G和256G三种规格，供不同层次的消费者选择
- C. 只要走进地下商城，马上就会有一群人把你团团围住，卖服装的、卖玩具的、卖食品的……迫不及待地要把你控制在自己的摊位上
- D. 小李拿到了1万多元年终奖，准备好好奖励自己，现在正纠结于出国放假、买笔记本电脑还是黄金首饰

74. 反向激励，指领导者对于工作表现欠佳的下属不仅不批评，反而适度肯定，以期取得与正向激励效果相当的评价策略。

下列属于反向激励的是：

- A. 小刘提前完成了经理布置的演讲稿，经理要他拿回去认真推敲，第二天小刘的修改稿得到了经理的高度肯定
- B. 小王因工作失误被顾客投诉，同事老王安慰她，并指导小王如何避免失误，小王经过一段时间的努力，业务能力越来越强，顾客十分满意
- C. 小李接受撰写市场调研报告的任务后，未能按时完成。经理称赞他调研认真，特意延期两天，小李的调研报告最终写得很出色
- D. 在工会羽毛球循环赛中，夺冠热门小王首轮意外失手，单位领导没有批评他，反而鼓励他调整好心态，小王最终获得了冠军

75. 粉丝文化：指个人或者群体出于对某一特定对象的追捧心理，所引发的过度崇拜、过度消费、无偿付出等社会文化现象。

下列不属于粉丝文化的是：

- A. 某位学者在电视台成功地举办了多次讲座，从此以后，他上课的教室外边常常挤满了慕名而来请求签名、合影的学生、市民
- B. 为了让歌手小杨在选秀节目中脱颖而出，许多陌生的年轻人自发组织起来，天天台前幕后地拉选票、拉赞助，忙得不亦乐乎
- C. 小张是一家娱乐类刊物的记者，他的主要任务是报道演艺圈的动态消息。有时为了追踪一个明星，甚至连饭都顾不上吃
- D. 小丽是《舌尖上的中国》的忠实观众，她把每一期节目都下载到自己的电脑中反复观看，经常到废寝忘食的地步

76. 播种：庄稼

- A. 烹饪：美食
- B. 填写：表格
- C. 品尝：绿茶
- D. 复印：文章

77. 欧元：美元

- A. 公斤：公里
- B. 小说：散文
- C. 公里：小时
- D. 阴性：阳性

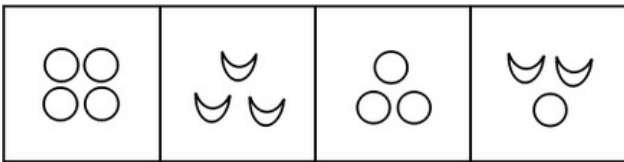
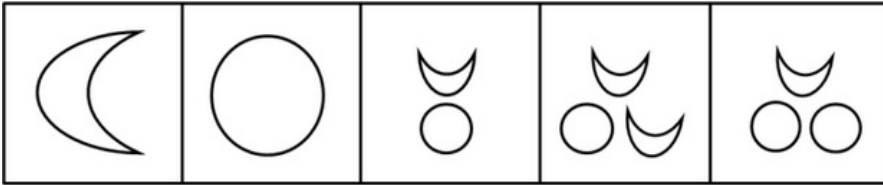
78. 消除：障碍
- A . 交流：合作
 - B . 解决：问题
 - C . 制度：创新
 - D . 改革：开放
79. 纪念：忘却
- A . 创业：就业
 - B . 传播：引导
 - C . 挖掘：埋没
 - D . 救援：灾难
80. 青奥会：亚运会：运动员
- A . 展销会：拍卖会：文物
 - B . 校友会：同乡会：同学
 - C . 座谈会：听证会：专家
 - D . 教代会：职代会：代表
81. 喜乐 之于 () 相当于 () 之于 美德
- A . 快乐 伦理
 - B . 情绪 诚信
 - C . 后悔 丑恶
 - D . 健康 心理
82. 左右 之于 () 相当于 () 之于 早晚
- A . 高低——内外
 - B . 多少——迟早
 - C . 长短——大小
 - D . 上下——快慢
83. @\$&&@\$
- A . @\$&&\$@
 - B . &&@@\$&
 - C . @&&\$@\$@
 - D . @\$@@&&\$
84. 嘀谓嘀谓微微滴谓
- A . 滴微微谓谓谓谓谓
 - B . 谓谓谓谓谓谓谓谓
 - C . 谓谓谓谓谓谓谓谓
 - D . 谓谓谓谓谓谓谓谓
85. 从四个图中选出唯一的一项，填入问号处，使其呈现一定的规律性：



A B C D

- A . A
- B . B
- C . C
- D . D

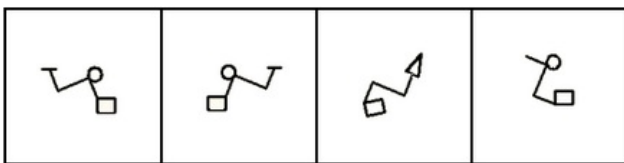
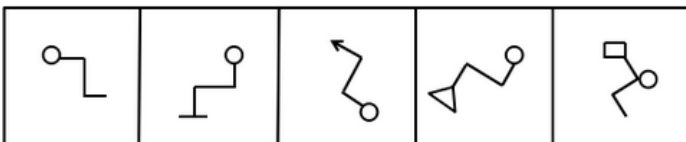
86. 从所给的四个选项中，选择最合适的一个填入问号处，使之呈现一定的规律性：



A B C D

- A . A
- B . B
- C . C
- D . D

87. 从所给的四个选项中，选择最合适的一个填入问号处，使之呈现一定的规律性：

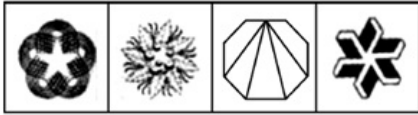
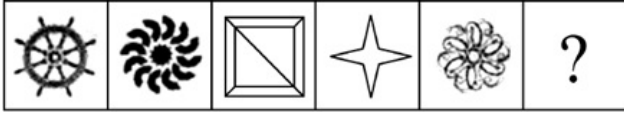


A B C D

- A . A
- B . B

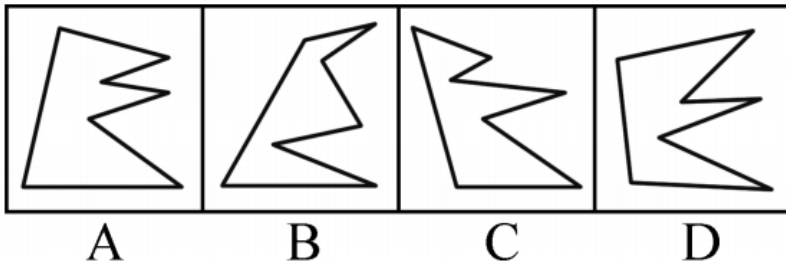
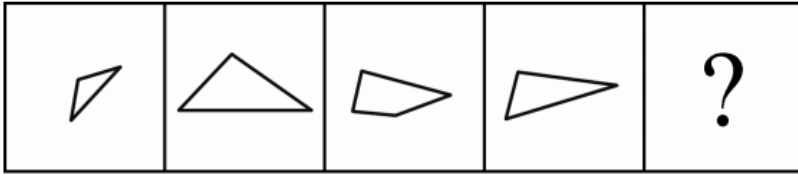
- C . C
- D . D

88. 从所给的四个选项中，选择最合适的一个填入问号处，使之呈现一定的规律性：



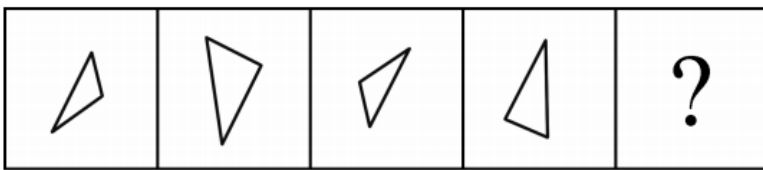
- A . A
- B . B
- C . C
- D . D

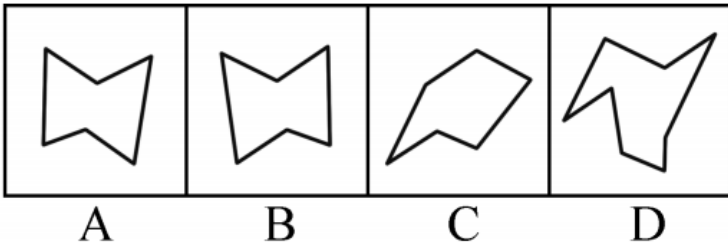
89. 右边四个图形中，只有一个是左边四个图形拼合（只能通过上、下、左、右平移）而成的，请把它找出来：



- A . A
- B . B
- C . C
- D . D

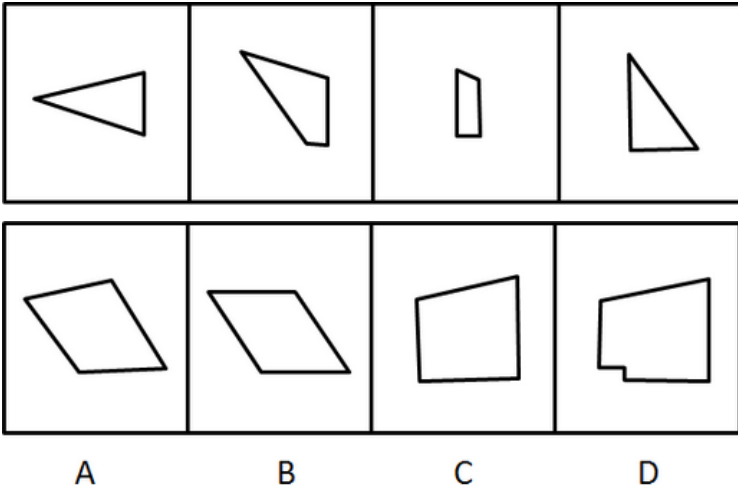
90. 右边四个图形中，只有一个是左边四个图形拼合（只能通过上、下、左、右平移）而成的，请把它找出来：





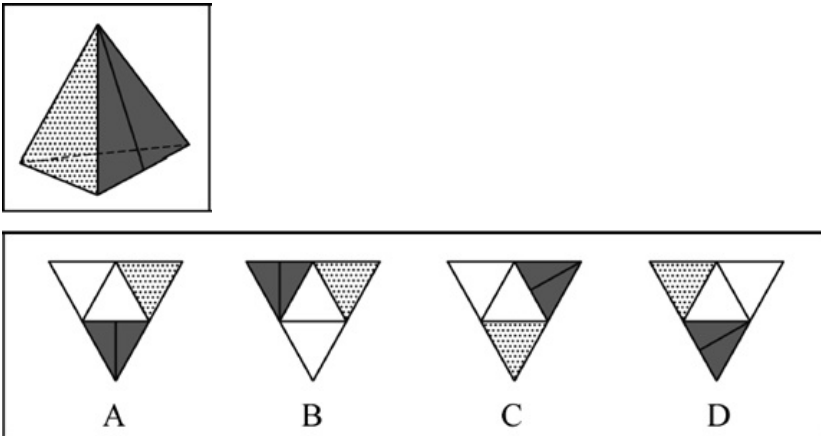
- A . A
- B . B
- C . C
- D . D

91. 下边四个图形中，只有一个是由上边的四个图形拼合而成（只能通过上、下、左、右进行移动），请把它找出来。



- A . A
- B . B
- C . C
- D . D

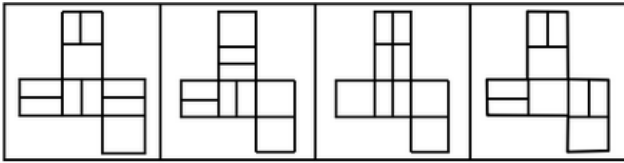
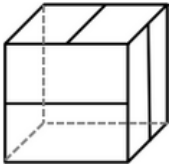
92. 上边这个图形是由下边四个图形中的某一个作为外表面折叠而成，请指出它是哪一个：



- A . A
- B . B
- C . C

D . D

93. 上边这个图形是由下边四个图形中的某一个作为外表面折叠而成，请指出它是哪一个：



A B C D

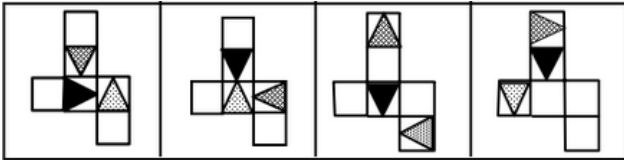
A . A

B . B

C . C

D . D

94. 上边这个图形是由下边四个图形中的某一个作为外表面折叠而成，请指出他是哪一个：



A B C D

A . A

B . B

C . C

D . D

95. 小王不是摄影师，但小王所认识的人都是摄影师，而摄影师都喜欢旅行，因为只有在旅行中才能遇到最美的风景，小王的朋友小张通过旅行与小王一起认识了小李。

根据以上陈述，可以得出以下哪项：

A . 小王喜欢旅行

B . 小李喜欢旅行

C . 小王不喜欢旅行

D . 小李不喜欢旅行

96. 研究人员为了验证一种长寿新药的效果，用两组小白兔进行了试验。他们对无差别的两组小白兔注射了新药，然后将其中一组关在笼子中饲养，另一组放在自然环境中饲养。结果发现，自然环境中饲养的小白兔的平均寿命比笼子中饲养的小白兔延长了1/10。研究人员由此认为，轻松的环境有利于发挥新药的功能。

以下哪项最有可能是研究人员得出结论的假设：

- A. 关在笼子中的小白兔生活得不愉快
- B. 注射了新药之后的小白兔生活得更轻松
- C. 自然环境中饲养的小白兔生活得更轻松
- D. 新药功能的发挥和实验对象的生活环境密切相关

97. 乡间公路上发生一起车祸，肇事司机是位女性，据这位女司机介绍，当时她发现路边有一餐馆准备停车用餐，误将油门当刹车，汽车径直向前撞向路边车辆，连撞两车后方才停下，万幸的是车上乘客仅受轻伤。有目击者对这起车祸做出如下评论，女司机更容易出车祸。

以下哪项如果为真，最能质疑上述评论：

- A. 有的男司机开车时比较敏捷和果断，很少出车祸
- B. 有的女司机开车时比较细心和冷静，很少出车祸
- C. 肇事司机已有8年驾龄，技术娴熟，以前从未出过车祸
- D. 女司机各有不同，对肇事女司机不能轻率概括、以点概面

98. 在某公司新招聘的100名应届毕业生（不含专科）中，男性42名，女性58名；研究生的比例超过了本科生，计算机类毕业生人数多于文史类毕业生，除了计算机类和文史类专业外，还有其他专业毕业的学生。

根据以上陈述，关于上述100名大学毕业生，可以得出以下哪项：

- A. 计算机类研究生人数多于文史类本科生
- B. 女性计算机类毕业生人数多于男性文史类本科生
- C. 女性研究生人数多于男性本科生
- D. 计算机类研究生人数多于男性本科生

99. 城市是一个生命体，一座历史文化名城，她的寿命长达千百年，印证她寿命的年轮也定会有千百条。作为城市年轮的历史文化遗产是绝对不能破坏或丢弃的，破坏或丢弃城市的年轮，就是自毁城市特色。而一座城市只有保持其固有特色，才能拥有核心竞争力。

根据以上陈述，可以得出以下哪项：

- A. 只有保护好历史文化遗产，历史文化名城才能拥有核心竞争力
- B. 只有拥有核心竞争力，一座城市才能保护好其历史文化遗产
- C. 如果保护好历史文化遗产，一座城市就能拥有其核心竞争力
- D. 如果历史文化遗产被破坏或丢弃，历史文化名城就会失去其生命力

100. 研究人员比较了过去3.3万年以来生活在欧洲的人的骨骼变化情况，发现从1万年前的中石器时代到2000年前的罗马帝国时期，人类两种腿骨的强度持续下降，但与奔跑行走无关的上臂骨强度则保持稳定。也正是在这一时期，农业开始兴起，人类逐渐向定居的生活方式转变，农业兴起导致现代人的骨骼变轻，但之后两种腿骨的强度几乎没有变化。研究人员由此得出结论，机械化和城市化对骨骼强度的影响并不明显。

以下哪项最可能是研究人员作出结论的假设：

- A. 在过去3.3万年间，人类的体重总体变化不大
- B. 从3.3万年前至1万年间，人类的生活方式没有发生重大的改变
- C. 机械化和城市化发生在农业兴起之后
- D. 人的骨骼变轻会导致其骨骼强度的下降

101. 食品安全标准不仅关系到食品安全，更关系到国家利益。稀土在土壤中广泛存在，也在现有的各种食物中广泛存在。目前，科学界关于稀土对人类健康影响的研究很欠缺，国际权威机构迄今为止并没有对稀土的危害性作出评估，更没有设立所谓“安全摄入标准”。近年来，我国对稻谷、玉米、小麦、茶叶等食物中的稀土限量标准作出统一标准，均为2.0毫克/千克。有专家据此认为，这些标准的制定并非都是合理的。

以下哪项如果为真，最能支持上述专家的观点：

- A. 目前，我国的稻谷、玉米、小麦中的稀土含量一般都低于2.0毫克/千克
- B. 茶叶中的稀土只有大约25%会进入茶水中，而一个人每天食用的茶叶量要远远小于粮食
- C. 中国先于国际权威机构制定食物中稀土的“安全摄入标准”，具有一定的超前性
- D. 中国是茶叶出口大国，又是世界上唯一制定了茶叶稀土限量标准的国家

某国承办了一次国际大赛，决定将赛事分配给该国的3个城市具体筹办。现有甲、乙、丙、丁、戊、己、庚7个候选城市通过了初选。根据要求，最终负责筹办的城市还需符合以下条件：

- (1) 甲和乙要么都入选，要么都不入选；
- (2) 丙与丁至多只能有一个入选；
- (3) 丙和甲至少要有一个人入选。

102. 如果丁入选，那么下列哪两个城市也一定入选：

- A. 甲和乙
- B. 甲和庚
- C. 乙和丙
- D. 丙和戊

103. 如果戊入选，那么下列哪两个城市也可能同时入选：

- A. 甲和丙
- B. 甲和己
- C. 乙和丙
- D. 丙和己

104. 条件性承诺，指在社会活动中，一方对另一方作出附带条件的承诺。

下列属于条件性承诺的是：

- A. 小琴考上了重点高中，老爸奖励她到国外旅游一周
- B. 某公司老总答应给考核优秀员工每人每月加薪200元
- C. 陈某对女儿说：“老妈将一如既往支持你报考研究生。”
- D. 小雨为自己立规，不减肥5斤，就拒绝参加朋友聚会

105. 趋同感应：指在社会交往过程中，一方能够把握另一方的心理状态，并且能够设身处地体验对方心理。

下列属于趋同感应的是：

- A. 天下谁人不识君
- B. 天生我材必有用
- C. 同是天涯沦落人
- D. 一片冰心在玉壶

106. 职业基因：指与个人所从事工作的特点相匹配的个性特点与气质。

下列不涉及职业基因的是：

- A. 小李在近十年的货车驾驶工作经历中，他的机智灵敏、注意力集中等特点使他成为公司的优秀驾驶员
- B. 做事一向细致、认真的小张，对自己从事财务工作感到很满意
- C. 小马头脑灵活、善于交际，在公司销售部工作期间，其业务量多年名列前茅
- D. 以优异成绩毕业于知名大学的马林博士，进入其科研机构后很快成为该机构的业务主管

107. 同质性群体：指经过较长时间后形成的具有某种共同的文化或性格特征的社会群体。

下列不属于同质性群体的是：

- A. 票友
- B. 同乡
- C. 微商
- D. 旅客

108. 众包，指公司或机构通常由员工承诺的工作任务，交由非特定的社会公众完成的做法。

下列不属于众包的是：

- A. 某玩具公司一直鼓励和赞助用户参与公司设计工作，从机器人操纵系统到积木套装产品，都收到了比较理想的效果
- B. 某洗涤用品公司经常把自己的研发项目，发布在各大网站上，征集解决方案定的奖励承诺
- C. 近三年来，某房地产公司将所有的电脑、网络及外设的日常维护工作，全部交给某电脑公司
- D. 某美术馆请参观者为馆内展品撰写讲解说明，选出其中的一部分制成标签共同展出

109. 假摔式降费：指企业在外部压力之下采取的一些表面降幅很大，实际上并未惠及广大消费者的调价策略。

下列属于假摔式降费的是：

- A. 在“双十一”价格大战中，某知名家电企业大幅调整了多种产品的零售价格，一周内，这些产品在全城各大商场均纷纷售罄
- B. 某城市的几家大商场为了抢占节日市场，联手采用打折促销的手段，消费人数呈上升之势
- C. 为落实上级有关部门的降费要求，某运营商很快公布了夜间国际漫游降低费用的具体方案
- D. 根据上级规定，某旅游景区在其官网上发布了不涨价承诺，游客们很快发现其中的不少景点本来就是免费景点

110. 配套效应，指拥有某件物品后，为了追求完美效果而不断配置其他相应物品。

下列不属于配套效应的是：

- A. 邻居送给小李一只宠物狗，半月后，小李家阳台上狗笼子、狗饭碗、狗澡盆、狗毛衣等一应俱全，几乎变成了宠物用品展示中心
- B. 小孙穿着朋友赠送的一件质地精良做工考究的睡袍在书房走动，总觉得身边的一切都不协调，他很快换掉了书房中的地毯、桌椅、书柜
- C. 张女士在商场亲子装专柜为儿子买了一件T恤，儿子和丈夫都非常满意，于是又返回商场为丈夫和自己各买了一件
- D. 赵总在古玩店淘到一件康熙宫廷玉器，特意为它配置了一个红木底座，还请诗友为它专门写了一首咏玉诗，放在大厅最醒目的地方

资料分析

请根据题目要求，在每个选项中选出一个最恰当的答案。

2015年5月，国家统计局调查队在江苏省某市开展了农村养老现状专项调研。受访老人中60~69岁的占45.8%，70~79岁的占38.1%，80岁及其以上的占16.1%。受访老人中有一个子女的占14.1%，有两个子女的占37.3%，无子女的占3.6%。受访老人中与配偶同住的占46.2%，与未婚子女同住的占2.8%，与某个已婚子女同住的占31.3%，在子女家轮流住的占4.0%，独居的占15.7%。分性别看，64.3%的受访老人为男性。从不同住子女探望老人的频率看，10.7%的受访老人表示每天来探望，26.5%的表示每周来探望，20.5%的表示每月来探望，其余的表示子女遇事或根据要求来探望。

调查显示，看电视（82.7%）、串门聊天（70.3%）、打牌（34.9%）、散步（29.7%）、听广播（19.3%）和读书看报（14.9%）是农村老人的主要闲暇活动。当问及“你想不想参加集体活动”时，20.9%的受访老人表示“想参加”，44.6%的老人表示“可参加可不参加”，还有34.5%的老人表示“不想参加”。关于受访老人对当前生活状态的满意度，从年龄层看，60~69岁、70~79岁，80岁及其以上的老人对当前生活状态的满意度分别为80.0%、79.1%、76.7%；从居住状态看，与子女同住、与配偶同住、独居的老人对当前生活状态的满意度分别为80.6%、80.0%、76.1%；从与村委会互动的频率看，经常互动、偶尔互动、基本不互动的老人对当前生活状态的满意度分别为82.4%、79.2%、76.7%。

111. 受访老人中有三个及以上子女的占比为：

- A . 44.0%
- B . 45.0%
- C . 46.0%
- D . 47.0%

112. 设与村委会经常互动、偶尔互动、基本不互动的受访老人对当前生活状态的满意度分别为A、B、C，则有：

- A . $A < B < C$
- B . $B < A < C$
- C . $C < B < A$
- D . $C < A < B$

113. 从不同住子女探望老人的频率看，占全体受访老人比重最大的是：

- A . 子女每月来探望的老人群体
- B . 子女每周来探望的老人群体
- C . 子女每天来探望的老人群体
- D . 子女遇事或根据要求来探望的老人群体

114. 从年龄层看，受访老人对当前生活状态的平均满意度为：

- A . 79.1%
- B . 78.6%
- C . 76.7%
- D . 80.0%

115. 下列判断正确的是：

- A . 受访老人中喜欢读书看报的多于喜欢打牌的
- B . 在子女家轮流住的受访老人占15.7%
- C . 喜欢看电视的受访老人都不喜欢听广播
- D . 受访老人中女性占35.7%

表 2014年全国农民工参加“五险一金”情况

单位：%

| | | 工伤保险 | | 医疗保险 | | 养老保险 | | 失业保险 | | 生育保险 | | 住房公积金 | |
|----|---------------|------|-------|------|-------|------|-------|------|-------|------|-------|-------|-------|
| | | 参保率 | 比上年提高 | 参保率 | 比上年提高 | 参保率 | 比上年提高 | 参保率 | 比上年提高 | 参保率 | 比上年提高 | 缴纳率 | 比上年提高 |
| 地区 | 东部 | 29.8 | 1.0 | 20.4 | 0.1 | 20.0 | 0.4 | 12.4 | 0.7 | 9.1 | 0.4 | 6.0 | 0.4 |
| | 中部 | 17.8 | 1.6 | 11.8 | 1.2 | 10.7 | 0.7 | 6.9 | 1.0 | 4.9 | 0.7 | 4.7 | 0.6 |
| | 西部 | 21.9 | 0.4 | 13.6 | 0.8 | 11.4 | 0.7 | 7.7 | 1.1 | 5.8 | 0.8 | 4.4 | 0.7 |
| 行业 | 制造业 | 34.2 | 1.4 | 22.1 | 0.4 | 21.4 | 0.5 | 13.1 | 0.9 | 9.3 | 0.5 | 5.3 | 0.3 |
| | 建筑业 | 14.9 | 0.5 | 5.4 | 0.2 | 3.9 | 0.2 | 2.1 | 0.1 | 1.3 | 0.0 | 0.9 | 0.0 |
| | 批发和零售业 | 19.2 | 2.2 | 15.0 | 0.8 | 14.4 | 0.9 | 9.9 | 1.0 | 7.8 | 0.8 | 3.5 | -0.1 |
| | 交通运输、仓储和邮政业 | 27.8 | 2.3 | 19.2 | 1.8 | 17.6 | 2.0 | 12.8 | 2.3 | 9.2 | 1.6 | 8.0 | 1.8 |
| | 住宿和餐饮业 | 17.2 | 0.1 | 10.8 | -1.1 | 10.0 | -0.6 | 5.4 | -1.2 | 4.0 | 0.1 | 2.6 | 0.1 |
| | 居民服务、修理和其他服务业 | 16.3 | 0.4 | 12.1 | 0.5 | 11.8 | 0.5 | 6.6 | 0.4 | 5.2 | 0.4 | 3.1 | 0.9 |

116. 2013年东部地区农民工工伤保险参保率比中部地区高：

- A . 12.6个百分点
- B . 12.0个百分点
- C . 11.7个百分点
- D . 10.0个百分点

117. 2014年农民工住宿和餐饮业的医疗保险参保人数是失业保险参保人数的：

- A . 2倍
- B . 1.5倍
- C . 0.8倍
- D . 0.5倍

118. 下列行业中，2014年农民工失业保险参保率比上年提高最少的是：

- A . 建筑业
- B . 住宿和餐饮业
- C . 制造业
- D . 批发和零售业

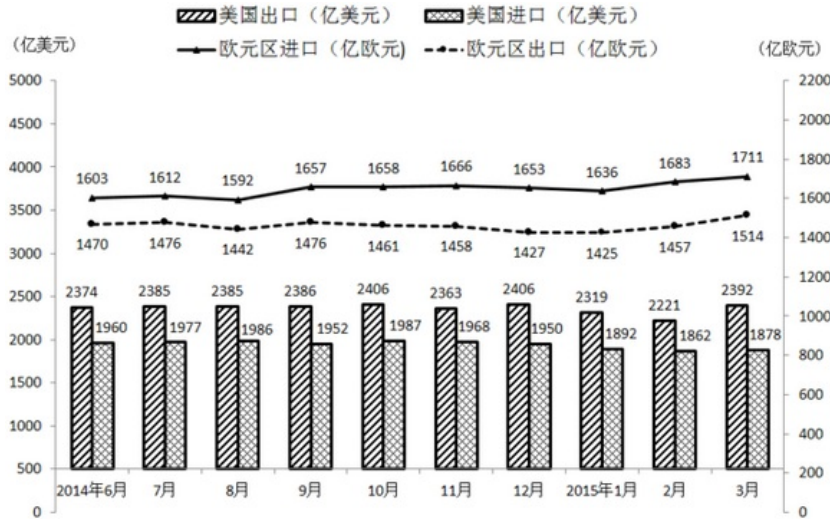
119. 若以 $V_{工}$ 、 $V_{失}$ 、 $V_{医}$ 、 $V_{养}$ 、 $V_{生}$ 分别表示2014年全国农民工“工伤保险”“失业保险”“医疗保险”“养老保险”“生育保险”参保率，则有：

- A . $V_{工} > V_{失} > V_{养}$
- B . $V_{医} > V_{失} > V_{养}$
- C . $V_{工} > V_{生} > V_{养}$
- D . $V_{工} > V_{养} > V_{生}$

120. 下列判断错误的是：

- A . 2014年制造业农民工养老保险参保率是建筑业的5倍以上
- B . 2013年交通运输、仓储和邮政业农民工失业保险参保率是10.5%
- C . 2014年西部地区农民工各项保险的参保率提升幅度均大于东部地区
- D . 2014年农民工住房公积金缴纳率增幅最大的行业是居民服务、修理和其他服务业

图 2014年6月-2015年3月美国与欧元区进、出口额



121. 2014年7月至2015年3月美国出口额月平均增量是：
- A . 0.8亿美元
 - B . 0.9亿美元
 - C . 1.8亿美元
 - D . 2.0亿美元
122. 2014年7月至2015年3月欧元区进口额与出口额变动方向相反的月份个数有：
- A . 2个
 - B . 3个
 - C . 4个
 - D . 5个
123. 2014年6月至2015年3月美国贸易顺差最大的月份是：
- A . 2014年12月
 - B . 2015年1月
 - C . 2015年2月
 - D . 2015年3月
124. 2014年7月至2015年3月美国与欧元区进、出口额月平均增速最快的是：
- A . 欧元区出口额
 - B . 欧元区进口额
 - C . 美国出口额
 - D . 美国进口额
125. 下列判断不正确的是：

- A . 2015年第1季度欧元区进口额环比有所增加
- B . 2015年1—3月美国进、出口额变动态势相同
- C . 2014年7月至2015年3月欧元区贸易逆差呈逐月增大的态势
- D . 2014年6月至2015年3月美国月度最低进口额为1862亿美元

2014年末全国就业人员77253万人，比上年末增加276万人。其中，城镇就业人员39310万人，比上年末增加1070万人。

2010-2014年末全国劳动就业情况

| 年份 | 2010 | 2011 | 2012 | 2013 | 2014 |
|------------------|------|------|------|------|------|
| 城镇新增就业人数 (万人) | 1168 | 1221 | 1266 | 1310 | 1322 |
| 城镇失业人员再就业人数 (万人) | 547 | 553 | 552 | 566 | 551 |
| 城镇登记失业人数 (万人) | 908 | 922 | 917 | 926 | 952 |
| 城镇登记失业率 (%) | 4.14 | 4.09 | 4.09 | 4.05 | 4.09 |
| 第一产业就业人员占比 (%) | 36.7 | 34.8 | 33.6 | 31.4 | 29.5 |
| 第二产业就业人员占比 (%) | 28.7 | 29.5 | 30.3 | 30.1 | 29.9 |
| 第三产业就业人员占比 (%) | 34.6 | 35.7 | 36.1 | 38.5 | 40.6 |

126. 2014年末全国城镇新增就业人数比2013年末增长：

- A . 0.7%
- B . 0.9%
- C . 1.2%
- D . 1.6%

127. 2013年末全国就业人员中从事第三产业的人数为：

- A . 23170万
- B . 24171万
- C . 29636万
- D . 31365万

128. 和2010年末相比，2014年末全国第一产业就业人员占比提高了：

- A . -7.2个百分点
- B . 1.2个百分点
- C . 6.0个百分点
- D . 7.2个百分点

129. 2011-2014年，全国城镇失业人员再就业人数占上年末全国城镇登记失业人数比重的最大值是：

- A . 59.5%
- B . 59.9%
- C . 60.9%
- D . 61.7%

130. 下列判断正确的是：

- A . 2014年末全国第二产业就业人数比上年末有所增加
- B . 2014年末全国城镇就业人员比上年末增加1322万人
- C . 2011—2014年末，全国第三产业就业人员占比逐年增加
- D . 2011—2014年末，全国城镇登记失业率和城镇登记失业人数的变化趋势相同